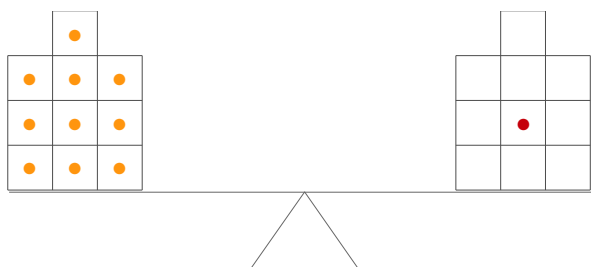


Name:

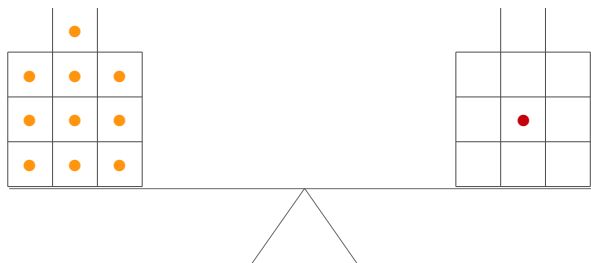
Datum:

ZR10: Wippenaufgaben sprachlich

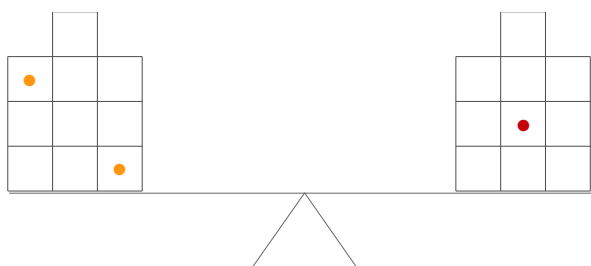
Schaue dir die Wippe an. Kannst Du die Fragen rechts daneben beantworten?



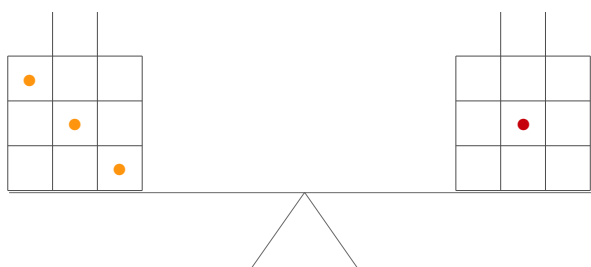
Auf beiden Seiten sollen gleich viele Steine sein. Wie viele Steine müsste ich links wegnehmen, dass die Wippe im Gleichgewicht ist?



Auf beiden Seiten sollen gleich viele Steine sein. Wie viele Steine müsste ich rechts dazutun, dass die Wippe im Gleichgewicht ist?



Links sind doppelt so viele Stein wie rechts. Wahr oder gelogen?



Links sind viermal so viele Stein wie rechts. Wahr oder gelogen?