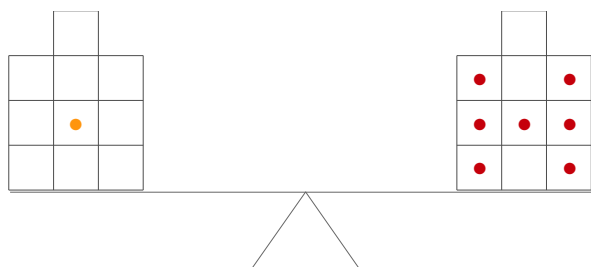


Name:

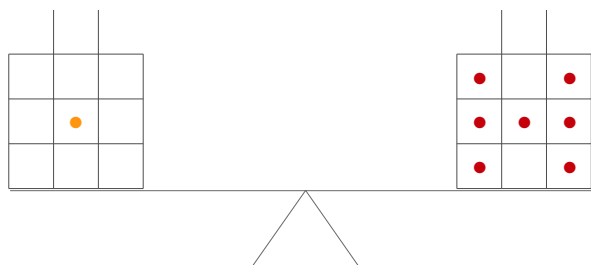
Datum:

ZR10: Wippenaufgaben sprachlich

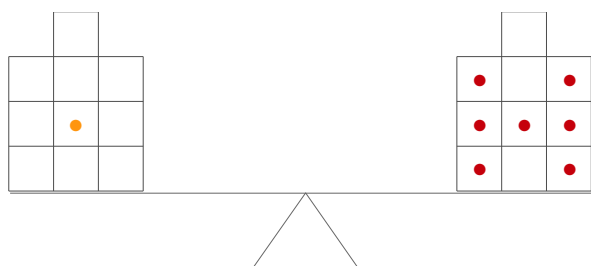
Schaue dir die Wippe an. Kannst Du die Fragen rechts daneben beantworten?



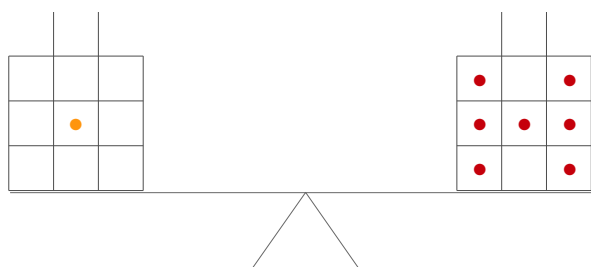
Auf beiden Seiten sollen gleich viele Steine sein. Wie viele Steine müsste ich rechts wegnehmen, dass die Wippe im Gleichgewicht ist?



Wie groß ist der Unterschied in der Anzahl der Steine links und rechts?



Auf welcher Seite müsste man noch sechs Steine hinzufügen, sodass die Wippe im Gleichgewicht ist?



Auf der rechten Seite sind mehr als doppelt so viele Steine wie links. Wahr oder gelogen?