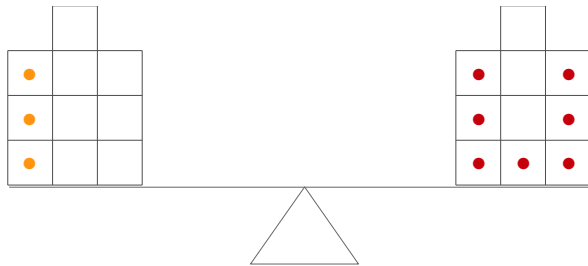


Name:

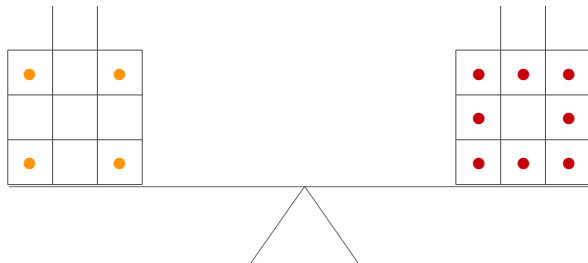
Datum:

ZR10: Wippenaufgaben sprachlich

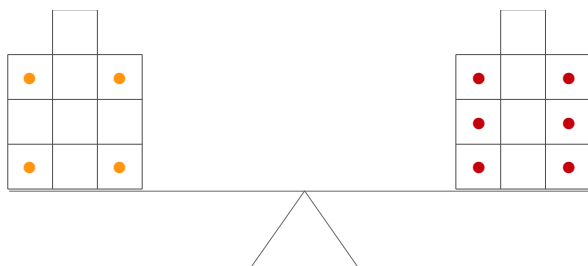
Schaue dir die Wippe an. Kannst Du die Fragen rechts daneben beantworten?



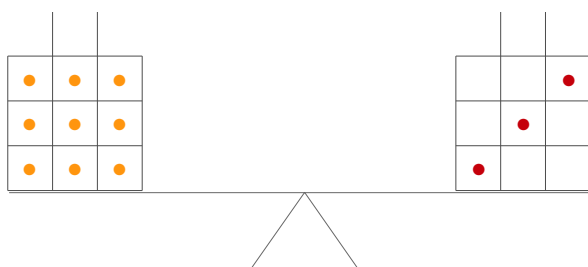
Auf beiden Seiten sollen gleich viele Steine sein. Wie viele Steine müsste man links noch hinzutun?



Wie viele Steine mehr liegen auf der rechten Seite als auf der linken Seite?



Wie groß ist der Unterschied zwischen der Anzahl der Steine links und rechts?



Wie groß ist der Unterschied zwischen der Anzahl der Steine links und rechts jetzt?