


Färbe die angegebenen Bruchteile in den Flächen und Körpern ein


$\frac{2}{8}$




$\frac{1}{3}$



$\frac{4}{4}$




$\frac{1}{6}$



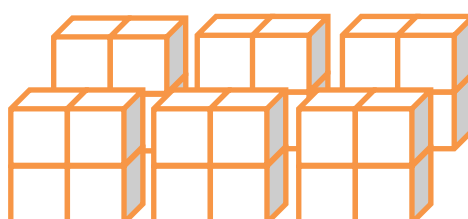
$\frac{3}{5}$



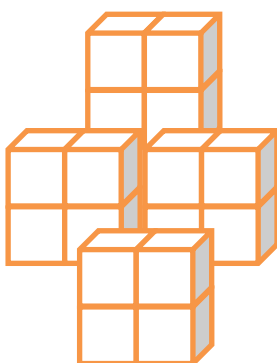
$\frac{3}{7}$




$\frac{1}{6}$



$\frac{2}{8}$



$\frac{1}{16}$



$\frac{1}{3}$





Zeichne die gesuchten Anteile ein und fülle die Lückentexte: Entscheide welcher Anteil größer oder kleiner ist, oder ob die Anteile gleich sind:

a)

$\frac{2}{8}$

ist



$\frac{3}{5}$



$\frac{2}{8}$

ist



$\frac{3}{5}$



$\frac{7}{8}$

ist

$\frac{5}{6}$



$\frac{6}{4}$

ist

$\frac{3}{2}$

